

Constable (GD) in CAPFs, NIA, SSF and Rifleman (GD) in Assam Rifles Examination, 2018

Exam Time :	9:00 AM - 10:30 AM
Exam Date :	06/03/2019

Section : General Section

Q.1 यदि PT को 8-10 के रूप में लिखा जाता है तो NLR को किस रूप में लिखा जाएगा?

- Ans
- 1. 8-6-11
 - 2. 7-6-8
 - 3. 7-6-12
 - 4. 7-6-9

Question ID : 9895808597
Chosen Option : 1

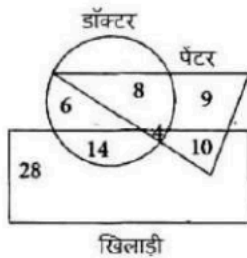
Q.2 उस विकल्प का चयन करें जो सही रूप में रिक्त स्थान की पूर्ति करते हुए श्रृंखला को पूरा करें।

2, 7, 5, 10, 8, 13, _____

- Ans
- 1. 38
 - 2. 11
 - 3. 15
 - 4. 9

Question ID : 9895808603
Chosen Option : 2

Q.3 निम्नलिखित आरेख का अध्ययन करें और दिए गए प्रश्नों का उत्तर दें।



कितने चित्रकार न तो डॉक्टर हैं और न ही खिलाड़ी?

- Ans 1. 6

2. 9
 3. 8
 4. 10

Question ID : 9895808614
 Chosen Option : 2

Q.4 चार भाई P, Q, R और S होटल जाते हैं। वे चार कमरे 301, 302, 303 और 304 बुक करते हैं। P और R के कमरों की संख्या का योग 803 है और R और S के कमरों की संख्या का योग 604 है। P, Q और R के कमरों की संख्या का योग क्या होगा?

- Ans 1. 904
 2. 905
 3. 907
 4. 903

Question ID : 9895808600
 Chosen Option : 4

Q.5 A, M, P, D, Q, R, W और B एक वृत्त के चारों ओर बेंच की ओर मुख किया बैठे हैं। D, A के बाएं से चौथे स्थान पर बैठे हैं, जो M के दाएं से तीसरे स्थान पर है। P, Q के बाएं से तीसरे स्थान पर बैठे हैं जो M के बाएं से तीसरे स्थान पर है। R, W के दाएं से तीसरे स्थान पर बैठे हैं, जो B के दाएं से दूसरे स्थान पर है।

निम्न में से किस जोड़े में दूसरा व्यक्ति पहले व्यक्ति के तुरंत दाएं बैठे है?

- Ans 1. RM
 2. QB
 3. MD
 4. AB

Question ID : 9895808598
 Chosen Option : 2

Q.6 चार शब्द दिए गए हैं, जिनमें से तीन किसी तरह से समान हैं, जबकि एक अलग है। असंगत शब्द का चयन करें।

- Ans 1. बाइबिल
 2. यहूदी
 3. कुरान
 4. भगवद गीता

Question ID : 9895808592
 Chosen Option : 2

Q.7 उस विकल्प का चयन करें जो सही रूप में रिक्त स्थान की पूर्ति करते हुए श्रृंखला को पूरा करें।

AB, BA, ABC, CBA, ABCD, _____

- Ans 1. CABD

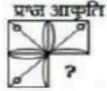
2. ACBD

3. BACD

4. DCBA

Question ID : 9895808590
Chosen Option : 4

Q.8 निम्नलिखित में से कौन सी उत्तर आकृति, दी गई आकृति को पूरा करेगी?



Ans



Question ID : 9895808610
Chosen Option : 3

Q.9 दिए गए विकल्पों में से संबंधित शब्द युगल का चयन करें।

दांत : काटना :: _____ : _____

Ans

1. झाड़ू : उड़ना

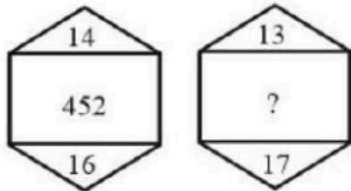
2. पैर : चलना

3. भोजन : गंध

4. ट्यूबलाइट : गर्मी

Question ID : 9895808593
Chosen Option : 2

Q.1 0 दिए गए विकल्पों में से लुप्त संख्या ज्ञात करें।



Ans

1. 400

2. 456

✗ 3. 440

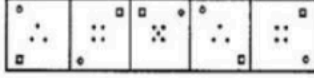
✓ 4. 458

Question ID : 9895808607

Chosen Option : 4

Q.1
1 वह विकल्प चुनें जो दी गई आकृति श्रृंखला को पूरा करता है।

प्रश्न आकृति



Ans

✓ 1.

✗ 2.

✗ 3.

✗ 4.

Question ID : 9895808609

Chosen Option : 2

Q.1
2 उस विकल्प का चयन करें जो तीसरे पद से उसी तरह संबंधित है जिस प्रकार दूसरा पद पहले पद से संबंधित है।

10 : 30 :: 68 : ?

Ans

✗ 1. 120

✗ 2. 100

✗ 3. 112

✓ 4. 130

Question ID : 9895808605

Chosen Option : 3

Q.1
3 दिए गए विकल्पों में से संबंधित शब्द युगल का चयन करें।

सेल्सियस : तापमान :: _____ : _____

Ans

✗ 1. बैंक नोट : कार्यालय

✓ 2. किलोमीटर : दूरी

✗ 3. मीटर : पानी

✗ 4. बल्ब : विद्युत प्रवाह

Question ID : 9895808594

Chosen Option : 2

Q.1
4 एक निश्चित कूट में, TIM को RKG के रूप में कूटबद्ध किया जाता है। उसी प्रकार से PAINE को कैसे कूटबद्ध किया जाता है?

- Ans
- 1. NGYCL
 - 2. NGYLC
 - 3. NYGCL
 - 4. NYGLC

Question ID : 9895808596
Chosen Option : 4

Q.1 नीचे दिए गए कथनों के बाद दो निष्कर्ष I और II दिए गए हैं। यह मानते हुए कि कथनों में दी गई जानकारी सत्य है, इनमें से कौन से कथनों से निम्न प्रतीत होती हो और यह निर्णय करें कि कौन सा/से निष्कर्ष तार्किक और निश्चित रूप से कथनों में दी गई जानकारी का अनुसरण करता है/करते हैं।

कथन:

कुछ शर्ट, मोने हैं।
कोई मंचा, लाल नहीं है।

निष्कर्ष:

- I. कुछ मोने, शर्ट है।
- II. कोई शर्ट, लाल नहीं है।

- Ans
- 1. या निष्कर्ष I या II अनुसरण करता है
 - 2. केवल निष्कर्ष II अनुसरण करता है
 - 3. न निष्कर्ष I न II अनुसरण करता है
 - 4. केवल निष्कर्ष I अनुसरण करता है

Question ID : 9895808602
Chosen Option : 1

Q.1 नीचे दिए गए प्रश्न आकृति के अनुसार एक कागज को मोड़कर काटा जाता है। इस कागज को खोलने पर दी गयी उल्टर आकृतियों में से कौन सी आकृति दिखाई देगी?

प्रश्न आकृति:



- Ans
- 1.
 - 2.
 - 3.
 - 4.

Question ID : 9895808613
Chosen Option : 4

Q.1 उस विकल्प का चयन करें जो तीसरे पद से उसी तरह संबंधित है जिस प्रकार दूसरा पद पहले पद से संबंधित है।
ROSEBERRY: SEBERRYRO : BEAUTIFUL : ?

- Ans 1. EAUTIFULB
 2. AUTIFULBE
 3. TIFULBEAU
 4. UTIFULBEA

Question ID : 9895808595

Chosen Option : 1

Q.1 नोचे दिए गए कथनों के बाद निष्कर्ष I, II, III और IV दिए गए हैं। यह मानते हुए कि कथनों में दी गई जानकारी सत्य है, भले ही वह संबंधित तथ्यों से भिन्न प्रतीत होती हो और यह निर्णय करें कि कौन सा से निष्कर्ष तार्किक और निश्चित रूप से कथन में दी गई जानकारी का अनुसरण करता है/करते हैं।

कथन:

सभी आँख की पुतली, कॉर्निया हैं

कुछ कॉर्निया, लेंस हैं

सभी लेंस, रेटिना हैं

निष्कर्ष:

- I. कुछ रेटिना, कॉर्निया हैं
 II. कुछ रेटिना, आँख की पुतली हैं
 III. कुछ लेंस, आँख की पुतली हैं
 IV. कुछ कॉर्निया, रेटिना हैं

- Ans 1. केवल I और IV अनुसरण करते हैं।
 2. केवल III और IV अनुसरण करते हैं।
 3. केवल I और II अनुसरण करते हैं।
 4. कोई भी अनुसरण नहीं करता है।

Question ID : 9895808601

Chosen Option : 1

Q.1 चार अक्षर समूह दिए गए हैं, जिनमें से तीन किसी तरह से समान हैं, जबकि एक अलग है। असंगत अक्षर समूह का चयन करें।

- Ans 1. STaY
 2. AWaY
 3. CLaY
 4. TRaY

Question ID : 9895808591

Chosen Option : 3

Q.2 चार विकल्प दिए गए हैं, जिनमें से तीन किसी तरह से समान हैं, जबकि एक अलग है। असंगत विकल्प का चयन करें।

- Ans 1. 3568
 2. 2348
 3. 6388
 4. 1238

Question ID : 9895808606

Chosen Option : 1

Q.2
1

चार लड़के A, B, C, D और चार लड़कियां P, Q, R, S मैरी-गो-राउंड का खेल इस प्रकार खेल रहे हैं कि उनका मुख केंद्र की ओर है और वे एक वृत्त में हैं। कोई भी दो लड़कियों या दो लड़के एक दूसरे के समीप नहीं हैं। A, R के समीप बायाँ ओर हैं, जो कि Q के विपरीत है। P और Q के मध्य केवल C है। P, S के विपरीत है जो कि B के समीप दायाँ ओर है।

यदि R और S के मध्य केवल B है तो, B के विपरीत कौन है?

- Ans
- 1. D
 - 2. Q
 - 3. C
 - 4. A

Question ID : 9895808599
Chosen Option : 1

Q.2 ₂ उस विकल्प का चयन करें जो सही रूप में रिक्त स्थान की पूर्ति करते हुए श्रृंखला को पूरा करें।

0.3, 0.8, 2.3, 4.8, _____

- Ans
- 1. 8.3
 - 2. 6.5
 - 3. 7.3
 - 4. 7.5

Question ID : 9895808604
Chosen Option : 1

Q.2 ₃ उस विकल्प का चयन करें जो दर्पण के द्वारा और रये जाने पर दो गई आकृति की दर्पण छवि से सर्वाधिक मेल खाता है।

प्रश्न आकृति:



Ans

- 1.
- 2.
- 3.
- 4.


Question ID : 9895808612
Chosen Option : 2

Q.2 ₄ उस विकल्प आकृति का चयन करें, जिसमें प्रश्न आकृति छिपी हुई/ अंतर्निहित है।


प्रश्न आकृति



Ans

✗ 1. 

✗ 2. 

✗ 3. 

✓ 4. 

Question ID : 9895808611
Chosen Option : 4

Q.2
5 दिए गए समीकरण को संतुलित करने के लिए '+' चिन्हों का स्थान लेने के लिए गणितीय चिन्हों के सही संयोजन का चयन करें।

$$530 \times 2 + 3 \times 5 + 800$$

Ans ✗ 1. $+ + - =$
✗ 2. $\div - - =$
✓ 3. $\div \times + =$
✗ 4. $+ + \times =$

Question ID : 9895808608
Chosen Option : 3

Q.2
6 _____ alloy consists of nickel, copper and zinc.

Ans ✗ 1. Rose Metal
✗ 2. Bell Metal
✗ 3. Solder
✓ 4. German silver

Question ID : 9895807520
Chosen Option : 4

Q.2
7 2018 एशियाई खेलों में किस भारतीय ने 50 kg महिला फ्रीस्टाइल कुश्ती में स्वर्ण पदक जीता?

Ans ✗ 1. साक्षी मलिक
✗ 2. बबिता कुमारी
✗ 3. कविता देवी
✓ 4. विनेश फोगट

Question ID : 9895807506
Chosen Option : 1

Q.2
8 कलौटक के राष्ट्रकूट वंश का पहला और सबसे महत्वपूर्ण राजा कौन था, जिसने बादामी के घालुक्यों को हराया था?

Ans ✓ 1. दंतिदुर्ग
✗ 2. उत्तम
✗ 3. बिन्दुसार

4 हरिहर ।

Question ID : 9895807525
Chosen Option : 3

Q.2
9 छत्तीसगढ़ में नौन सा आदिवासी त्योहार आदिवासियों की देवी केशरपाल केशरपालिन को समर्पित है?

- Ans
- 1. मिंजर
 - 2. पुली काली
 - 3. मदाई
 - 4. सरहुल

Question ID : 9895807504
Chosen Option : 1

Q.3
0 Mutual Funds asset base in India stood at _____ at end of November 2018.

- Ans
- 1. ₹ 24 lakh crore
 - 2. ₹ 47 lakh crore
 - 3. ₹ 31 lakh crore
 - 4. ₹ 19 lakh crore

Question ID : 9895807511
Chosen Option : 1

Q.3
1 भारत ने फाइनल में किस देश की टीम को हराकर अंडर 19 क्रिकेट विश्व कप, 2018 जीता?

- Ans
- 1. इंग्लैंड
 - 2. दक्षिण अफ्रीका
 - 3. ऑस्ट्रेलिया
 - 4. पाकिस्तान

Question ID : 9895807507
Chosen Option : 4

Q.3
2 The Zoji La Pass is in which mountain range?

- Ans
- 1. Zaskar Range
 - 2. Ladakh Range
 - 3. Dhauladhar Range
 - 4. East Karakoram Range

Question ID : 9895807523
Chosen Option : 4

Q.3
3 आबर्त सारणी के 5 वें पीरियड और IIA समूह में किस तत्व को रखा गया है?

- Ans
- 1. बेरियम (क्रमांक 56वें पर)
 - 2. स्ट्रॉटियम (क्रमांक 38वें पर)

3. लेड (क्रमांक 82वें पर)
4. टेल्यूरियम (क्रमांक 52वें पर)

Question ID : 9895807519
Chosen Option : 3

Q.3
4 भांगड़ा नृत्य किस राज्य में लोकप्रिय है?

- Ans 1. पंजाब
2. पुदुचेरी
3. महाराष्ट्र
4. राजस्थान

Question ID : 9895807505
Chosen Option : 1

Q.3
5 उपसर्ग ' _____ ' 10^{15} के गुणक के बराबर है।

- Ans 1. atto
2. peta
3. femto
4. exa

Question ID : 9895807518
Chosen Option : 2

Q.3
6 1997 में मिस वर्ल्ड का खिताब किसने जीता?

- Ans 1. डायना हेडन
2. जीनत अमान
3. रीता फारिया
4. तारा ऐन फोन्सेका

Question ID : 9895807510
Chosen Option : 3

Q.3
7 निम्नलिखित में से कौन सी नदी कृष्णा की सहायक नदी नहीं है?

- Ans 1. भीमा
2. कोयना
3. वेन्ना
4. बेतवा

Question ID : 9895807522
Chosen Option : 1

Q.3
8 भारत के संविधान में व्यापार की स्वतंत्रता की अवधारणा किस देश के संविधान से ली गई है?

- Ans 1. ऑस्ट्रेलिया

- 2. संयुक्त राज्य अमेरिका
- 3. यूनाइटेड किंगडम
- 4. आयरलैंड

Question ID : 9895807514

Chosen Option : 1

Q.3 काकोरी षडयंत्र केस के लिए किन स्वतंत्रता सेनानियों को फांसी दी गई थी?

- Ans
- 1. चितरंजन दास और वासुदेव बलवंत फड़के
 - 2. खुदीराम बोस और चंद्रशेखर आज़ाद
 - 3. राम प्रसाद बिस्मिल और अशफाकउल्ला खान
 - 4. कृष्णजी गोपाल कर्वे और बाघा जतिन

Question ID : 9895807526

Chosen Option : 2

Q.4 'व्योमकेश बखशी स्टोरीज' के लेखक कौन हैं?

- Ans
- 1. ऋत्विक् घाटक
 - 2. डेविड डेविडर
 - 3. सत्यजीत रे
 - 4. शरादिंदु बंदोपाध्याय

Question ID : 9895807509

Chosen Option : 3

Q.4 The _____ are the triangular muscles of the shoulder.

- Ans
- 1. Sartorius
 - 2. Masseter
 - 3. Achilles tendon
 - 4. Deltoids

Question ID : 9895807521

Chosen Option : 3

Q.4 _____ को छोड़कर निम्न सभी भाई- बहनों को दादा साहब फालके पुरस्कार मिला।

- Ans
- 1. महेश भट्ट और विक्रम भट्ट
 - 2. राज कपूर और शशि कपूर
 - 3. बी आर चोपड़ा और यश चोपड़ा
 - 4. लता मंगेशकर और आशा भोसले

Question ID : 9895807508

Chosen Option : 1

Q.4 एक साधारण पेंडुलम 'T' की अवधि और उसकी लंबाई 'L' के बीच का संबंध _____ है। (g' गुरुत्वाकर्षण के कारण त्वरण है)

- Ans
- 1. $T=2\pi \sqrt{(g/L)}$
 - 2. $T=4\pi \sqrt{(g/L)}$
 - 3. $T=4\pi \sqrt{(L/g)}$
 - 4. $T=2\pi \sqrt{(L/g)}$

Question ID : 9895807517
Chosen Option : 4

Q.4 किस राजनैतिक पार्टी का चुनाव चिह्न 'हाथी' है?

- Ans
- 1. राष्ट्रीय जनता दल
 - 2. राष्ट्रीय कांग्रेस पार्टी
 - 3. भारतीय कम्युनिस्ट पार्टी
 - 4. बहुजन समाज पार्टी

Question ID : 9895807516
Chosen Option : 4

Q.4 मुगल सेना के खिलाफ लड़ते हुए सिंहगढ़ किले के सफल बचाव में किस मराठा योद्धा की मृत्यु हुई थी?

- Ans
- 1. बाजी प्रभु देशपांडे
 - 2. चिमाजी अप्पा
 - 3. तानाजी मालुसरे
 - 4. बाजी पसालकर

Question ID : 9895807527
Chosen Option : 1

Q.4 केंद्रीय बजट 2018 में _____ को ₹ 5,750 करोड़ आवंटित किए गए।

- Ans
- 1. उज्ज्वला योजना
 - 2. राष्ट्रीय आजीविका मिशन
 - 3. सौभाग्य योजना
 - 4. ऑपरेशन ग्रीन

Question ID : 9895807512
Chosen Option : 1

Q.4 अशोक के शिलालेखों में किस लिपि के सबसे अच्छे उदाहरण मिलते हैं?

- Ans
- 1. ब्राह्मी
 - 2. शारदा
 - 3. ग्रंथ
 - 4. कदंब

Question ID : 9895807503
Chosen Option : 4

Q.4 2018-19 में मध्यम स्टेपल किन्म के कपास का न्यूनतम समर्थन मूल्य कितना निर्धारित किया गया है?

- Ans
- 1. ₹ 5,150 प्रति क्विंटल
 - 2. ₹ 2,897 प्रति क्विंटल
 - 3. ₹ 2,430 प्रति क्विंटल
 - 4. ₹ 1,950 प्रति क्विंटल

Question ID : 9895807513
Chosen Option : 3

Q.4 संविधान के किस संशोधन से बोडो, डोगरी, संथाली और मैथिली को मान्यता प्राप्त भाषाओं की सूची में जोड़ा गया?

- Ans
- 1. 101 वां संविधान संशोधन अधिनियम, 2016
 - 2. 92 वां संविधान संशोधन अधिनियम 2003
 - 3. 73 वां संविधान संशोधन अधिनियम 2003
 - 4. 103 वां संविधान संशोधन अधिनियम, 2018

Question ID : 9895807515
Chosen Option : 3

Q.5 मंगल ग्रह के वातावरण में अधिक मात्रा _____ की है।

- Ans
- 1. कार्बन डाइऑक्साइड
 - 2. अमोनिया
 - 3. हाइड्रोजन
 - 4. ऑक्सीजन

Question ID : 9895807524
Chosen Option : 1

Q.5 10 प्रतिशत की चक्रवृद्धि ब्याज दर पर 2 वर्ष के लिए ₹ 5000 की एक राशि तिन्त्रेच की गई और ब्याज वार्षिकी संयोजित होता है। अन्त्रित ब्याज (₹ में) कितना है?

- Ans
- 1. 500
 - 2. 1000
 - 3. 1050
 - 4. 2100

Question ID : 9895807842
Chosen Option : 2

Q.5 $\frac{1}{3} + \frac{6}{7} \div \frac{6}{3} + \frac{8}{9} - \frac{2}{3} \times \frac{4}{3}$ का मान क्या है?

- Ans
- 1. $\frac{15}{21}$

- ✓ 2. $\frac{16}{21}$
- ✗ 3. $\frac{17}{21}$
- ✗ 4. $\frac{9}{21}$

Question ID : 9895807829
Chosen Option : 2

Q.5 एक घनाभ का आधार लंबाई 34 cm सेमी है और ऊंचाई 3.5 सेमी है। घनाभ का आयतन कितना है?

- Ans ✗ 1. 125 सेमी³
- ✓ 2. 119 सेमी³
- ✗ 3. 108 सेमी³
- ✗ 4. 97 सेमी³

Question ID : 9895807848
Chosen Option : 2

Q.5 A sum of ₹ 10000 is lent partly at 8% and remaining at 10% per annum. If the yearly interest on the average is 9.2%, then both parts are respectively.

- Ans ✗ 1. ₹ 5500 and ₹ 4500
- ✗ 2. ₹ 4500 and ₹ 5500
- ✗ 3. ₹ 5000 and ₹ 5000
- ✓ 4. ₹ 4000 and ₹ 6000

Question ID : 9895807841
Chosen Option : 2

Q.5 एक व्यक्ति 50 मीटर लंबाई और 1 मीटर चौड़ाई का रेसमी कपड़ा ₹ 250 प्रति sq m की दर से खरीदता है और और 40 मीटर लंबाई और 2 मीटर चौड़ाई का सूती कपड़ा ₹ 200 प्रति वर्ग मीटर की दर से खरीदता है। दोनों कपड़ों की कीमतों में अंतर क्या है?

- Ans ✓ 1. ₹ 3500
- ✗ 2. ₹ 4100
- ✗ 3. ₹ 3950
- ✗ 4. ₹ 3200

Question ID : 9895807847
Chosen Option : 1

Q.5 भोपाल से वाराणसी तक जाने की ट्रेन की गल 100 किमी प्रति घंटे है जबकि वाराणसी से भोपाल लौटते समय, उसकी गल 80 किमी प्रति घंटे है। पूरी यात्रा के दौरान औसत गति कितनी है? (दशमलव के दो स्थानों तक)

- Ans ✗ 1. 78.56 kmph
- ✗ 2. 86.53 kmph
- ✗ 3. 90.52 kmph
- ✓ 4. 88.89 kmph

Question ID : 9895807832

Chosen Option : 4

Q.5
7 निम्नलिखित प्रश्नों का उत्तर देने के लिए तालिका का ध्यान पूर्वक अध्ययन करें।

100 में से तीन विषयों में तीन छात्रों A, B एवं C द्वारा प्राप्त अंक			
छात्र	विषय		
	गणित	विज्ञान	अंग्रेजी
A	88	86	66
B	65	74	78
C	72	68	84

सभी विषयों को मिलाकर 'A' द्वारा कुल प्राप्तांक कितना है?

- Ans
- 1. 260
 - 2. 240
 - 3. 228
 - 4. 242

Question ID : 9895807851

Chosen Option : 2

Q.5
8 एक ट्रेन 18 सेकंड में प्लेटफॉर्म को और 8 सेकंड में एक आदमी को पार करती है, जो प्लेटफॉर्म पर खड़ा है। यदि ट्रेन की लंबाई 100 मीटर है, तो प्लेटफॉर्म की लंबाई कितनी होगी?

- Ans
- 1. 130 m
 - 2. 150 m
 - 3. 125 m
 - 4. 140 m

Question ID : 9895807845

Chosen Option : 3

Q.5
9 एक व्यक्ति को 20 मीटर कपड़ा बेचने पर 4 मीटर कपड़े के बिक्री मूल्य के बराबर लाभ प्राप्त होता है। लाभ प्रतिशत कितना है?

- Ans
- 1. 20%
 - 2. 22%
 - 3. 15%
 - 4. 25%

Question ID : 9895807837

Chosen Option : 1

Q.6
0 जॉन एक निश्चित दूरी का $\frac{2}{3}$ वां भाग वाइक से यात्रा करता है और शेष 6 किमी पैदल चलता है। पूरी यात्रा में वह कितने किमी की दूरी तय करता है?

Ans

1. 18 km
 2. 28 km
 3. 26 km
 4. 14 km

Question ID : 9895807846
 Chosen Option : 3

Q.6
1 निम्नलिखित प्रश्नों का उत्तर देने के लिए तालिका का ध्यान पूर्वक अध्ययन करें।

100 में से तीन विषयों में तीन छात्रों A, B एवं C द्वारा प्राप्त अंक			
छात्र	विषय		
	गणित	विज्ञान	अंग्रेजी
A	88	86	66
B	65	74	78
C	72	68	84

सभी छात्रों के द्वारा गणित में प्राप्त अंकों का औसत क्या है?

- Ans 1. 79
 2. 81
 3. 75
 4. 87

Question ID : 9895807850
 Chosen Option : 3

Q.6
2 यदि आयत की लंबाई 4 : 5 के अनुपात में बढ़ जाती है और इसकी चौड़ाई 3 : 2 के अनुपात में कम हो जाती है, तो इसका क्षेत्रफल _____ के अनुपात में घट जाएगा।

- Ans 1. 2 : 1
 2. 6 : 5
 3. 10 : 3
 4. 4 : 3

Question ID : 9895807849
 Chosen Option : 4

Q.6
3 3, 7 और 15 का चतुर्थानुपाती क्या है?

- Ans 1. 30
 2. 45
 3. 25
 4. 35

Question ID : 9895807839
Chosen Option : 4

Q.6
4 $\frac{10}{21}, \frac{20}{63}, \frac{55}{56}$ का लघुत्तम समापवर्त्य क्या है?

- Ans
- 1. $\frac{220}{504}$
 - 2. $\frac{5}{504}$
 - 3. $\frac{220}{7}$
 - 4. $\frac{5}{7}$

Question ID : 9895807828
Chosen Option : 4

Q.6
5 एक बाइक की अंगित कीमत ₹ 33,600 है। खुदरा विक्रेता ने होली के अवसर पर 15% की छूट की घोषणा की। बाइक के लिए ग्राहक को कितनी राशि देनी होगी?

- Ans
- 1. ₹ 5976
 - 2. ₹ 20224
 - 3. ₹ 5376
 - 4. ₹ 28224

Question ID : 9895807833
Chosen Option : 4

Q.6
6 यदि $\frac{a}{b} = \frac{2}{3}$, तो $(5a^3 - 2a^2b) : (3ab^2 - b^3)$ का मान क्या है?

- Ans
- 1. 16 : 27
 - 2. 32 : 29
 - 3. 34 : 19
 - 4. 27 : 16

Question ID : 9895807840
Chosen Option : 1

Q.6
7

निम्नलिखित प्रश्नों का उत्तर देने के लिए तालिका का ध्यान पूर्वक अध्ययन करें।

100 में से तीन विषयों में तीन छात्रों A, B एवं C द्वारा प्राप्त अंक			
छात्र	विषय		
	गणित	विज्ञान	अंग्रेजी
A	88	86	66
B	65	74	78
C	72	68	84

परीक्षा में A और C के कुल अंको का अंतर कितना है?

- Ans
- 1. 16
 - 2. 22
 - 3. 13
 - 4. 15

Question ID : 9895807852
Chosen Option : 1

Q.6
8 एक पाइप 20 मिनट में एक टंकी को भर सकता है जब की यह टंकी पूरी तरह खरी हो तब एक रिसाब से 28 मिनट में पूरी तरह से खाली हो जाती है। जब दोनों एक साथ खोल दिए जाए तो टंकी को भरने में कितना समय लगेगा?

- Ans
- 1. 48 मिनट
 - 2. 80 मिनट
 - 3. 70 मिनट
 - 4. 60 मिनट

Question ID : 9895807843
Chosen Option : 3

Q.6
9 A dice is rolled two times. Find the probability of getting a composite number on first roll and a prime number on second roll?

- Ans
- 1. $\frac{1}{4}$
 - 2. $\frac{1}{2}$
 - 3. $\frac{1}{9}$
 - 4. $\frac{1}{6}$

Question ID : 9895807834
Chosen Option : 2

Q.7
0 यदि कोई आदमी घास- मैदान (लॉन) की घास को T मिनट में काटता है, तो वह 30 मिनट में घास का मैदान का कितना हिस्सा काट सकता है?

Ans

1. T-30
 2. T/30
 3. 30-T
 4. 30/T

Question ID : 9895807844

Chosen Option : 2

Q.7
1 राम कुछ बस्तुएं 70 की दर पर ₹ 890 में खरीद कर 60 की दर पर ₹ 890 में बेच देता है। उसका प्रतिशत लाभ क्या है?

- Ans
1. $16\frac{2}{3}\%$
 2. $17\frac{1}{3}\%$
 3. 25%
 4. 20%

Question ID : 9895807836

Chosen Option : 1

Q.7
2 विद्युत कोहली का 9 पादियों में एक निश्चित बैटिंग औसत है। दूसरी पायी में उन्होंने 108 रन बनाये जिससे उनका औसत 6 रन बढ़ गया। उनका नया बैटिंग औसत क्या है?:

- Ans
1. 46
 2. 52
 3. 48
 4. 56

Question ID : 9895807831

Chosen Option : 1

Q.7
3 निम्नलिखित प्रश्नों में प्रश्नवाचक चिन्ह (?) के स्थान पर क्या आना चाहिए?
 $(140 + 80 \times 2 - 24) \div (80 + 20 \times 3 - 40) = ?$

- Ans
1. 276
 2. 2.76
 3. 0.276
 4. -27.6

Question ID : 9895807830

Chosen Option : 2

Q.7
4 एक किराना व्यापारी को ₹ 45 प्रति किग्रा के बाजरे को ₹ 32 प्रति किग्रा के बाजरे में किस अनुपात में मिलाना चाहिए ताकि मिश्रण को ₹ 48 प्रति किग्रा की दर से बेचने पर उसे 20% का लाभ प्राप्त हो सके?

- Ans
1. 7 : 5
 2. 9 : 5
 3. 4 : 1
 4. 8 : 5

Question ID : 9895807838

Chosen Option : 1

Q.7 एक विशेष प्रयोग में शामिल चूहों में से साठ प्रतिशत मरता था। यदि प्रयोग के दौरान कुछ चूहें मर जाते हैं और मरने वाले चूहों में से 30% नर थे। पुरुष चूहों के मृत्यु दर तथा मादा चूहों के मृत्यु दर के बीच का अनुपात क्या था?

- Ans
- 1. 6 : 7
 - 2. 9 : 16
 - 3. 3 : 4
 - 4. 9 : 14

Question ID : 9895807835
Chosen Option : 3

Section : English Language

Q.1 Select the antonym of the given word.

RELUCTANT

- Ans
- 1. Unwilling
 - 2. Willing
 - 3. Opposed
 - 4. Unenthusiastic

Question ID : 9895808732
Chosen Option : --

Q.2 Select the most appropriate option to substitute the underlined segment in the given sentence. If there is no need to substitute it, select No substitution required.

Our meals usually have at least one item make of some kinds of grain.

- Ans
- 1. making of any kinds
 - 2. makes of kind
 - 3. No substitution required
 - 4. made of some kind

Question ID : 9895808718
Chosen Option : --

Q.3 Select the most appropriate word to fill in the blank.

I was astounded at his _____ knowledge about the continent of Africa.

- Ans
- 1. Colossal
 - 2. Vast
 - 3. Massive
 - 4. Grave

Question ID : 9895808739
Chosen Option : --

Q.4 Select the wrongly spelt word.

- Ans
- 1. Scenary
 - 2. Secretary

3. Sergeant

4. Surely

Question ID : 9895808737

Chosen Option : --

Q.5 Select the synonym of the given word.

MADNESS

Ans 1. Wisdom

2. Stability

3. Balance

4. Insanity

Question ID : 9895808730

Chosen Option : --

Q.6 Select the word which means the same as the group of words given.

A person who is recovering after an illness or medical treatment

Ans 1. Convalescent

2. Altruist

3. Athlete

4. Healthy

Question ID : 9895808736

Chosen Option : --

Q.7 Select the word which means the same as the group of words given.

Someone who wishes to destroy the existing government and laws

Ans 1. Patriot

2. Hermit

3. Pacifist

4. Anarchist

Question ID : 9895808735

Chosen Option : --

Q.8 Select the most appropriate word to fill in the blank.

The _____ of the minister's statement cannot be verified by people who have no access to official records.

Ans 1. validity

2. ambiguity

3. rejection

4. approval

Question ID : 9895808740

Chosen Option : --

Q.9 Identify the segment in the sentence which contains the grammatical error from the given options.

The jute plant is normal harvested when it is at flowering stage.

- Ans
- 1. flowering
 - 2. The jute plant
 - 3. when it is
 - 4. is normal

Question ID : 9895808717
Chosen Option : --

Q.1 Select the most appropriate option to substitute the underlined segment in the given sentence. If there is no need to substitute it, select No substitution required.

The two sisters look quite different in each other.

- Ans
- 1. No substitution required
 - 2. different as each other
 - 3. different with one another
 - 4. different from each other

Question ID : 9895808719
Chosen Option : --

Q.1 Identify the segment in the sentence which contains the grammatical error from the given options.

1

Seeds of mustard plants give us oil and the leave are used as a vegetable.

- Ans
- 1. as a vegetable
 - 2. Seeds of
 - 3. give us oil
 - 4. leave are used

Question ID : 9895808715
Chosen Option : --

Q.1 Select the antonym of the given word.

2

LAMENT

- Ans
- 1. Grieve
 - 2. Rejoice
 - 3. Regret
 - 4. Mourn

Question ID : 9895808731
Chosen Option : --

Q.1 Identify the segment in the sentence which contains the grammatical error from the given options.

3

The thin wire that giving off light is called the filament.

- Ans
- 1. light is called
 - 2. giving off

3. the filament

4. The thin wire

Question ID : 9895808716
Chosen Option : --

Q.1
4 Select the synonym of the given word.

LUCID

Ans 1. Ambiguous

2. Confusing

3. Unclear

4. Clear

Question ID : 9895808729
Chosen Option : --

Q.1
5 Select the wrongly spelt word.

Ans 1. Concious

2. Corruption

3. Completely

4. Committee

Question ID : 9895808738
Chosen Option : --

Q.1
6 Select the most appropriate option to substitute the underlined segment in the given sentence. If there is no need to substitute it, select No substitution required.

Tea leaves is separate from the liquid with a strainer, while preparing tea.

Ans 1. No substitution required

2. were separating to

3. was separate to

4. are separated from

Question ID : 9895808720
Chosen Option : --

Q.1
7 Select the meaning of the given idiom.

Bring to one's knees

Ans 1. to support someone

2. to trouble someone

3. to request to bend

4. to force to submit

Question ID : 9895808734
Chosen Option : --

Q.1
8 Select the most appropriate word to fill in the blank.

Among the _____ kinds, the most common ant is black or red.

- Ans
- 1. lots of
 - 2. various
 - 3. much
 - 4. separate

Question ID : 9895808721
Chosen Option : --

Comprehension:

In the following passage some words have been deleted. Fill in the blanks with the help of the alternatives given. Select the most appropriate option for each number.

Those of us who live in (1) _____ covered with forests and surrounded (2) _____ hills may find it difficult to (3) _____ what a desert is really like. The (4) _____ belief is that it is (5) _____ endless stretch of sand where no rain falls and, therefore, no vegetation grows.

SubQuestion No : 19

Q.1
9 Select the most appropriate option that will fill in the blank number 1.

- Ans
- 1. cities
 - 2. regions
 - 3. quarters
 - 4. territory

Question ID : 9895808724
Chosen Option : --

Comprehension:

In the following passage some words have been deleted. Fill in the blanks with the help of the alternatives given. Select the most appropriate option for each number.

Those of us who live in (1) _____ covered with forests and surrounded (2) _____ hills may find it difficult to (3) _____ what a desert is really like. The (4) _____ belief is that it is (5) _____ endless stretch of sand where no rain falls and, therefore, no vegetation grows.

SubQuestion No : 20

Q.2
0 Select the most appropriate option that will fill in the blank number 2.

- Ans
- 1. by
 - 2. for
 - 3. with
 - 4. from

Question ID : 9895808725
Chosen Option : --

Comprehension:

In the following passage some words have been deleted. Fill in the blanks with the help of the alternatives given. Select the most appropriate option for each number.

Those of us who live in (1) _____ covered with forests and surrounded (2) _____ hills may find it difficult to (3) _____ what a desert is really like. The (4) _____ belief is that it is (5) _____ endless stretch of sand where no rain falls and, therefore, no vegetation grows.

SubQuestion No : 21

Q.2
1 Select the most appropriate option that will fill in the blank number 3.

- Ans
- 1. imagine
 - 2. look
 - 3. feel
 - 4. calculate

Question ID : 9895808726
Chosen Option : --

Comprehension:

In the following passage some words have been deleted. Fill in the blanks with the help of the alternatives given. Select the most appropriate option for each number.

Those of us who live in (1) _____ covered with forests and surrounded (2) _____ hills may find it difficult to (3) _____ what a desert is really like. The (4) _____ belief is that it is (5) _____ endless stretch of sand where no rain falls and, therefore, no vegetation grows.

SubQuestion No : 22

Q.2
2 Select the most appropriate option that will fill in the blank number 4.

- Ans
- 1. fake
 - 2. noted
 - 3. attractive
 - 4. popular

Question ID : 9895808727
Chosen Option : --

Comprehension:

In the following passage some words have been deleted. Fill in the blanks with the help of the alternatives given. Select the most appropriate option for each number.

Those of us who live in (1) _____ covered with forests and surrounded (2) _____ hills may find it difficult to (3) _____ what a desert is really like. The (4) _____ belief is that it is (5) _____ endless stretch of sand where no rain falls and, therefore, no vegetation grows.

SubQuestion No : 23

Q.2
3 Select the most appropriate option that will fill in the blank number 5.

- Ans 1. a
 2. an
 3. no article needed
 4. the

Question ID : 9895808728
Chosen Option : --

Q.2
4 Select the most appropriate word to fill in the blank.

This seems to be a _____ rifle.

- Ans 1. soldier's
 2. soldier
 3. soldier'
 4. soldiers

Question ID : 9895808722
Chosen Option : --

Q.2
5 Select the meaning of the given idiom.

Cool as Cucumber

- Ans 1. to be calm
 2. to be smart
 3. to be aggressive
 4. to be clever

Question ID : 9895808733
Chosen Option : --

Section : Hindi Language

Q.1 दिये गये वाक्यांश के लिए एक शब्द दीजिये।

तीव्र बुद्धि वाला

- Ans 1. अल्पबुद्धि
 2. दुर्बुद्धि

✓ 3. कुशाग्रबुद्धि

✗ 4. मंदबुद्धि

Question ID : 9895806966
Chosen Option : 3

Q.2 दिए गए वाक्य का वह भाग ज्ञात करें जिसमें कोई त्रुटि है।

यदि आप अपनी और अपनी परिवार की भलाई चाहते हो तो यहाँ से चले जाओ।

Ans ✓ 1. और अपनी परिवार की

✗ 2. यदि आप अपनी

✗ 3. भलाई चाहते हो

✗ 4. तो यहाँ से चले जाओ।

Question ID : 9895806945
Chosen Option : 1

Q.3 दिये गये वाक्यांश के लिए एक शब्द दीजिये।

रास्ता दिखाने वाला

Ans ✗ 1. समदर्शी

✗ 2. राहपथिक

✓ 3. मार्गदर्शक

✗ 4. दूरदर्शी

Question ID : 9895806965
Chosen Option : 3

Q.4 दिए गए शब्द का विलोम चुनें।

मांसाहारी

Ans ✓ 1. शाकाहारी

✗ 2. निरंकारी

✗ 3. निराहार

✗ 4. बलिहारी

Question ID : 9895806960
Chosen Option : 1

Q.5 सही वर्तनी वाले शब्द का चयन करें।

Ans ✓ 1. दिवस

✗ 2. दीवास

✗ 3. दीवस

✗ 4 दिवश

Question ID : 9895806968
Chosen Option : 1

Q.6 दिए गए वाक्य में रेखांकित खंड को प्रतिस्थापित करने के लिए उपयुक्त विकल्प का चयन करें।

जिसने मन रूपी मृतवाले हाथी को वश में कर लिया वही सच्चा शूरवीर है।

- Ans
- ✗ 1. उद्विग्न
 - ✓ 2. मदमस्त
 - ✗ 3. व्याकुल
 - ✗ 4. आकुल

Question ID : 9895806948
Chosen Option : 3

Q.7 'शाश्वत' का विलोम शब्द है-

- Ans
- ✗ 1. अस्थायी
 - ✓ 2. क्षणिक
 - ✗ 3. स्वस्थ
 - ✗ 4. चिरंतन

Question ID : 9895806959
Chosen Option : 2

Q.8 दिए गए वाक्य में रेखांकित खंड को प्रतिस्थापित करने के लिए उपयुक्त विकल्प का चयन करें।

जीवन में उन्नति चाहते हो तो परिश्रम करो।

- Ans
- ✗ 1. अग्रसर
 - ✗ 2. उच्चता
 - ✓ 3. विकास
 - ✗ 4. अग्रगण्य

Question ID : 9895806946
Chosen Option : 3

Q.9 रिक्त स्थान को भरने के लिए उपयुक्त शब्द का चयन करें।

लगता है आज _____ होगी।

- Ans
- ✗ 1. बादल
 - ✓ 2. वर्षा
 - ✗ 3. सूर्य
 - ✗ 4. दिन

Question ID : 9895806952
Chosen Option : 2

Q.1
0

रिक्त स्थान को भरने के लिए उपयुक्त शब्द का चयन करें।

एक विद्वान ने परीक्षा की _____ आग से की है।

- Ans
- 1. तुलना
 - 2. अपेक्षा
 - 3. उपेक्षा
 - 4. तुल्य

Question ID : 9895806950
Chosen Option : 1

Q.1
1 सही वर्तनी वाले शब्द का चयन करें।

- Ans
- 1. शाक्षर
 - 2. साक्षर
 - 3. सक्षर
 - 4. साक्षार

Question ID : 9895806967
Chosen Option : 2

Q.1
2 दिए गए वाक्य का वह भाग ज्ञात करें जिसमें कोई त्रुटि है।

श्याम की खराब स्थिति को देखकर मुझे दुःख और क्षोभ हुए।

- Ans
- 1. श्याम की
 - 2. मुझे दुःख
 - 3. और क्षोभ हुए।
 - 4. खराब स्थिति को देखकर

Question ID : 9895806944
Chosen Option : 3

Q.1
3 दिए गए वाक्य में रेखांकित खंड को प्रतिस्थापित करने के लिए उपयुक्त विकल्प का चयन करें।

उसकी शिकायत पूर्णतया सही थी।

- Ans
- 1. प्रतिशब्द
 - 2. अक्षरशः
 - 3. अधिकतम
 - 4. लगभग

Question ID : 9895806947
Chosen Option : 4

Q.1
4 'डकार जाना' मुहावरे का अर्थ है-

- Ans
- 1. हड़प लेना

- 2. खुलेआम कहना
- 3. कठिन काम
- 4. हानि उठाना

Question ID : 9895806964
Chosen Option : 1

Q.1
5 दिए गए शब्द के पर्यायवाची शब्द का चयन करें।

विपत्ति

- Ans
- 1. कष्ट
 - 2. जटिल
 - 3. जटा
 - 4. मुसीबत

Question ID : 9895806962
Chosen Option : 4

Q.1
6 दिए गए शब्द के पर्यायवाची शब्द का चयन करें।

खग

- Ans
- 1. कबूतर
 - 2. पशु
 - 3. पक्षी
 - 4. तोता

Question ID : 9895806961
Chosen Option : 1

Q.1
7 'अठखेलियाँ सूझना' मुहावरे का अर्थ है-

- Ans
- 1. ईर्ष्या करना
 - 2. व्यंग्य करना
 - 3. मजाक उड़ाना
 - 4. दिल्लगी करना

Question ID : 9895806963
Chosen Option : 1

Q.1
8 दिए गए वाक्य का वह भाग ज्ञात करें जिसमें कोई त्रुटि है।

कक्षा के सभी छात्र गुरु जी की आदर करते हैं।

- Ans
- 1. करते हैं।
 - 2. गुरु जी की आदर
 - 3. कक्षा के

✗ 4. सभी छात्र

Question ID : 9895806943
Chosen Option : 2

Comprehension:

निम्नलिखित गद्यांश के रिक्त स्थानों की पूर्ति गद्यांश के नीचे दिए गए प्रश्नों के अनुसार कीजिए-

किताबें हमारी सबसे अच्छी _____ (1) हैं। किताबें आत्मा और मन के लिए भोजन हैं। पुस्तकें हमारे दुखों में हमें _____ (2) दे सकती हैं और जीवन की चिंताओं को भूलने में मदद कर सकती हैं। ये जीवन में _____ (3) का रहस्य सिखाती हैं। ये जीवन के अंधेरे में _____ (4) दिखाती हैं। ये हमें सिखाती हैं कि बुराई पर अच्छाई की _____ (5) होती है।

SubQuestion No : 19

Q.1 गद्यांश में संकेतित रिक्त स्थान (1) के लिए उपयुक्त शब्द होगा।

- Ans
- ✗ 1. दुश्मन
 - ✗ 2. सहकर्मी
 - ✗ 3. सहपाठी
 - ✓ 4. दोस्त

Question ID : 9895806954
Chosen Option : 3

Comprehension:

निम्नलिखित गद्यांश के रिक्त स्थानों की पूर्ति गद्यांश के नीचे दिए गए प्रश्नों के अनुसार कीजिए-

किताबें हमारी सबसे अच्छी _____ (1) हैं। किताबें आत्मा और मन के लिए भोजन हैं। पुस्तकें हमारे दुखों में हमें _____ (2) दे सकती हैं और जीवन की चिंताओं को भूलने में मदद कर सकती हैं। ये जीवन में _____ (3) का रहस्य सिखाती हैं। ये जीवन के अंधेरे में _____ (4) दिखाती हैं। ये हमें सिखाती हैं कि बुराई पर अच्छाई की _____ (5) होती है।

SubQuestion No : 20

Q.2 गद्यांश में संकेतित रिक्त स्थान (2) के लिए उपयुक्त शब्द होगा।

- Ans
- ✗ 1. अशांति
 - ✗ 2. वेदना
 - ✗ 3. तकलीफ
 - ✓ 4. सांत्वना

Question ID : 9895806955
Chosen Option : 4

Comprehension:

निम्नलिखित गद्यांश के रिक्त स्थानों की पूर्ति गद्यांश के नीचे दिए गए प्रश्नों के अनुसार कीजिए-

किताबें हमारी सबसे अच्छी _____ (1) हैं। किताबें आत्मा और मन के लिए भोजन हैं। पुस्तकें हमारे दुखों में हमें _____ (2) दे सकती हैं और जीवन की चिंताओं को भूलने में मदद कर सकती हैं। ये जीवन में _____ (3) का रहस्य सिखाती हैं। ये जीवन के अंधेरे में _____ (4) दिखाती हैं। ये हमें सिखाती हैं कि बुराई पर अच्छाई की _____ (5) होती है।

SubQuestion No : 21

Q.2
1 गद्यांश में संकेतित रिक्त स्थान (3) के लिए उपयुक्त शब्द होगा।

- Ans
- 1. निष्फलता
 - 2. सफलता
 - 3. विफलता
 - 4. दरिद्रता

Question ID : 9895806956
Chosen Option : 2

Comprehension:

निम्नलिखित गद्यांश के रिक्त स्थानों की पूर्ति गद्यांश के नीचे दिए गए प्रश्नों के अनुसार कीजिए-

किताबें हमारी सबसे अच्छी _____ (1) हैं। किताबें आत्मा और मन के लिए भोजन हैं। पुस्तकें हमारे दुखों में हमें _____ (2) दे सकती हैं और जीवन की चिंताओं को भूलने में मदद कर सकती हैं। ये जीवन में _____ (3) का रहस्य सिखाती हैं। ये जीवन के अंधेरे में _____ (4) दिखाती हैं। ये हमें सिखाती हैं कि बुराई पर अच्छाई की _____ (5) होती है।

SubQuestion No : 22

Q.2
2 गद्यांश में संकेतित रिक्त स्थान (4) के लिए उपयुक्त शब्द होगा।

- Ans
- 1. आशंका
 - 2. रोशनी
 - 3. भ्रम
 - 4. भय

Question ID : 9895806957
Chosen Option : 2

Comprehension:

निम्नलिखित गद्यांश के रिक्त स्थानों की पूर्ति गद्यांश के नीचे दिए गए प्रश्नों के अनुसार कीजिए-

किताबें हमारी सबसे अच्छी _____ (1) हैं। किताबें आत्मा और मन के लिए भोजन हैं। पुस्तकें हमारे दुखों में हमें _____ (2) दे सकती हैं और जीवन की चिंताओं को भूलने में मदद कर सकती हैं। ये जीवन में _____ (3) का रहस्य सिखाती हैं। ये जीवन के अंधेरे में _____ (4) दिखाती हैं। ये हमें सिखाती हैं कि बुराई पर अच्छाई की _____ (5) होती है।

SubQuestion No : 23

Q.2
3 गद्यांश में संकेतित रिक्त स्थान (5) के लिए उपयुक्त शब्द होगा।

- Ans
- 1. पराजय
 - 2. विजेता
 - 3. अजय
 - 4. विजय

Question ID : 9895806958
Chosen Option : 4

Q.2
4 रिक्त स्थान को भरने के लिए उपयुक्त शब्द का चयन करें।

मैं पौधे _____ रहा हूँ।

- Ans
- 1. भगा
 - 2. जगा
 - 3. खा
 - 4. लगा

Question ID : 9895806951
Chosen Option : 4

Q.2
5 रिक्त स्थान को भरने के लिए उपयुक्त शब्द का चयन करें।

आजकल चोरों _____ गिरोह सक्रिय हैं।

- Ans
- 1. का
 - 2. से
 - 3. को
 - 4. पर

Question ID : 9895806949
Chosen Option : 1